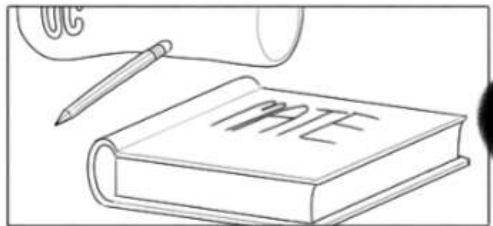


GIMMY


Artista

E LE

DRITOS



Disegna un triangolo ABC e prolunga AC di un segmento CE congruente a CB . Costruisci la bisettrice dell'angolo BCE , poi traccia la semiretta, passante per il punto M di AB , che forma con AB due angoli retti. Essa incontra la bisettrice nel punto F . Dimostra che i triangoli BFM con AFM e CEF con BCF sono congruenti.





Come ti permetti?
Io sono Euclide, sono
nato in Grecia nel
IV secolo a.C.!



Sono stato un
matematico e un filosofo
coinvolto in vari studi:
dalla musica
all'astronomia, passando
per meccanica e
ottica!



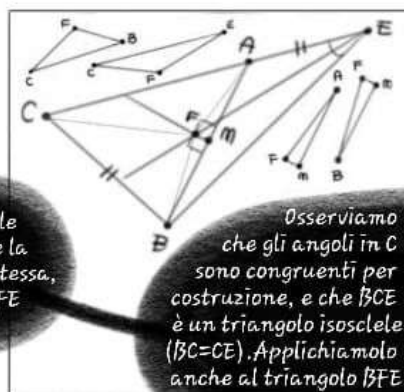


Ma
ovviamente il mio
forte è la matematica:
ho scritto "Elementi",
una delle opere più
influenti di tutta la
storia della
matematica.



Ascolta
bene

Il mio testo
viene tuttora usato
per insegnare la
geometria!
Porta rispetto!





FIN
E